

يونٽ 2

لاگريٿم

LOGARITHMS

شاگردن جي سکيا جا حاصلات

هن يونٽ جي پڙهڻ کان پوءِ شاگرد ان قابل ٿي ويندا ته:

- ◆ عدد کي سائنسي لکڻي جي معياري صورت ۾ ظاهر ڪن ۽ برڪس.
- ◆ حقيقي عدد جو لاگريٿم جنهن جو بنياد a (Base) ۽ جنهن تي ڪجهه سگهه (Exponent) ڏيڻ سان ڪو عدد ملي ان جي وصف بيان ڪرڻ (i.e., $a^x = y \Leftrightarrow \log_a y = x, a > 0, y > 0$ and $a \neq 1$)
- ◆ عام لاگريٿم جي وصف بيان ڪري عدد جي لاگريٿم جوڳڻ ۽ مئٽيسا بيان ڪري سگهن.
- ◆ عددن جو لاگريٿم معلوم ڪرڻ لاءِ جدول استعمال ڪري سگهن.
- ◆ ضد لاگريٿم جو تصور ڏين ۽ جدول (Table) کي استعمال ڪندي ڪنهن عدد جو ضد لاگريٿم معلوم ڪن.
- ◆ ڪئليڪيوليٽر جي استعمال سان لاگريٿم ۽ ضد لاگريٿم معلوم ڪن.
- ◆ عام لاگريٿم ۽ قدرتي لاگريٿم ۾ فرق بيان ڪري سگهن
- ◆ $\log_{10} y = \log y$ يا صرف $\log y$ ۽ $\log_e(y)$ کي لکن
- ◆ $\log_{10} y = x \Leftrightarrow y = 10^x$ (i)
- ◆ $\ln y = x \Leftrightarrow y = e^x$. (ii)
- ◆ لاگريٿم جا هيٺيان قاعدا ثابت ڪريو.
- ◆ $\log_a(mn) = \log_a m + \log_a n$ (i)
- ◆ $\log_a\left(\frac{m}{n}\right) = \log_a m - \log_a n$, (ii)
- ◆ $\log_a m^n = n \log_a m$, (iii)
- ◆ $\log_a m \cdot \log_m n = \log_a n$. (iv)
- ◆ لاگريٿم جا هي قاعدا استعمال ڪري، ضرب، ونڊ ۽ سگهن جي ڊگهن طريقن کي جوڙ ۽ ڪٽ وغيره جي آسان طريقن ۾ تبديل ڪن



تعارف:

مسلمان رياضي دان ابو محمد موسيٰ الخوارزمي لاڳرٿم روشناس ڪرايو. ان کان پوءِ سترهين صدي عيسويءَ ۾ جان نيپيئر انهيءَ ۾ وڌيڪ سڌارو آندو ۽ سندس جدولون تيار ڪيون. انهن جدولن ۾ عدد e کي بنياد بنايو ويو. e هڪ غيرناتق عدد آهي جنهن جو ملهه تقريباً 2.71828 آهي. 1631ع ۾ پروفيسر هيئري ڊرگس 10 کي بنياد بڻائي لاڳرٿم جون جدولون تيار ڪيون.

لاڳرٿم جي استعمال سان حساب ڪتاب آسان ٿي پيو ۽ ان جو استعمال وڌيڪ ڪارآمد ٿي ويو.

٢/١ سائنسي لکڻي (Scientific Notation)

سائنسي لکڻي، تمام وڏن ۽ تمام ننڍن عددن کي آسانيءَ سان لکڻ جو هڪ خاص نمونو آهي.

2.1.1 عدد کي سائنسي لکڻي جي معياري صورت ۾ ظاهر ڪرڻ ۽ برڪس.

سائنس ۽ ٽيڪنالاجي جي دنيا ۾ اسان جو واسطو تمام وڏن ۽ ننڍن عددن، مقدارن، سان پوندو آهي. ڌرتي کان سج جو مفاصلو تقريباً $150,000,000$ ڪلوميٽر آهي ۽ هئڊروجن ائٽم جو وزن $(0.000,000,000,000,000,000,000,001,7)$ گرام آهي. اهڙي قسم جي عددن کي عام لکڻي (معياري لکڻي) ۾ هر هڪ لاءِ لکڻ تمام ڏکيو آهي ۽ وقت به گهڻو گهربل آهي. سائنسدانن تمام ننڍن عددن ۽ تمام وڏن عددن کي لکڻ لاءِ مناسب ۽ آسان طريقو روشناس ڪرايو آهي جنهن کي سائنسي لکڻي چئبو آهي.

مٿي ڏنل حصي 2.1.1 ۾ ڏيکاريل عددن کي آساني سان سائنسي لکڻي ۾ ترتيبوار 1.5×10^8 km ۽ 1.7×10^{-27} g لکبو.



هيٺيان مثال سائنسي لکڻي کي سمجهڻ لاءِ مدد فراهم ڪندا.

مثال 01

هيٺين عددن کي سائنسي لکڻي ۾ لکو.

(i) 400900

(ii) 0.0000075

حل: (i) 400900

ڏنل عدد ۾، ڏهائي ايڪي واري عدد کان پوءِ آهي، تنهنڪري ڏهائي جي نشاني کي ساڄي کان کاٻي طرف پنجن عددن تائين ٽپايو ۽ $400900 = 4.009 \times 10^5$ لکو جيڪو گهربل سائنسي لکڻي ۾ آهي.

(ii) 0.0000075

ڏنل ڏهائي عدد ۾ ڏهائي جو نشان کان پوءِ 7 انگ آهن جنهن ۾ 7 پهريون غير بڙي عدد آهي. تنهنڪري ڏهائي نشان کي 6 عددن تائين کاٻي کان ساڄي طرف ٽپايو ۽ لکو $0.0000075 = 7.5 \times 10^{-6}$ جيڪو ڏنل عدد جي گهربل سائنسي لکڻي ۾ آهي.

هيٺين کي عام لکڻي ۾ لکو

مثال 02

(i) 2.76×10^6

(ii) 5.24×10^{-4}

حل: (i) 2.76×10^6

10 جي سگهه 6 آهي تنهنڪري اسان ڏهائي نشان کي 6 درجن تائين کاٻي کان ساڄي طرف ٽپائينداسين، پر مليل انگ به آهن ان ڪري اسان چار بڙيون ساڄي طرف لکي پوءِ ڏهائي ڏينداسين يعني $2.76 \times 10^6 = 2760000$ ، جيڪو گهربل عام لکڻي وارو عدد آهي.

(ii) **حل:** 5.24×10^{-4}

10 جي سگهه ڪاٺو 4 آهي تنهنڪري اسان ڏهائي نشان کي 4 درجن تائين ساڄي کان کاٻي طرف ٽپائينداسين، پر مليل انگ هڪ آهي. ان ڪري اسان ٽي بڙيون کاٻي طرف وڌائي پوءِ ڏهائي ڏينداسين، يعني جيڪو گهربل عام لکڻي وارو عدد آهي. $5.24 \times 10^{-4} = 0.000524$

مشق 2.1

1. هيٺين عددن مان هر هڪ کي سائنسي لکڻي ۾ ظاهر ڪريو.

(i) 9700	(ii) 4,980,000	(iii) 96,000,000
(iv) 4169	(v) 84,000	(vi) 0.718
(vii) 0.00643	(viii) 0.0074	(ix) 0.21005

2. هيٺين عددن کي عام لکڻي (معياري نشاني) ۾ ظاهر ڪريو.

(i) 7×10^4	(ii) 8.072×10^{-10}	(iii) 6.018×10^6
(iv) 7.865×10^8	(v) 2.05×10^{-4}	(vi) 7.25×10^{10}
(vii) 4.502×10^6	(viii) 2.865×10^{-8}	(ix) 3.056×10^6

2.2 لاگرٿم

لاگرٿم ضرب / ونڊ / سگهن تي مشتمل منجهيل حسابن کي سادي صورت ۾ لکڻ جو طريقو آهي.

2.2.1 حقيقي عدد جو لاگرٿم جنهن جو بنياد a (Base) ۽ جنهن تي ڪجهه سگهه (Exponent)

ڏيڻ سان ڪو عدد ملي ان جي وصف بيان ڪرڻ (i.e., $a^x = y \Leftrightarrow \log_a y = x$, $a > 0$, $y > 0$ and $a \neq 1$)

جيڪڏهن $a^x = y$ ته y جو لاگرٿم a بنياد تي x کي چئبو هي ۽

علامتن ۾ لکنداسين $\log_a y = x$ جڏهن ته $a > 0$, $y > 0$ ۽ $a \neq 1$

تنهنڪري $a^x = y \Leftrightarrow \log_a y = x$

اهو ظاهر ٿئي ٿو ته $a^x = y$ سگهه واري صورت ۽ $\log_a y = x$ لاگرٿمي صورت ۾ آهن.

هيٺيان مثال سگهه ۽ لاگرٿمي صورت جي تصور کي سمجهڻ ۾ مدد ڪندا.

مثال 01 $2^{-4} = \frac{1}{16}$ کي لاگرٿمي صورت ۾ لکو.

$$\text{حل: } 2^{-4} = \frac{1}{16} \Rightarrow \log_2 \frac{1}{16} = -4$$

مثال 02 $\log_3 81 = 4$ کي سگهه واري صورت ۾ لکو.

$$\text{حل: } \log_3 81 = 4 \Rightarrow 3^4 = 81$$

مثال 03 $\log_4 2$ جو ملهه لھو.

حل: فرض ڪريو ته $x = \log_4 2$

سگهه واري صورت آهي

$$\begin{aligned} \therefore 4^x &= 2 \\ \Rightarrow (2)^{2x} &= 2^1 \end{aligned}$$

ٻنهي طرف سگهن کي هڪٻئي جي برابر ڪرڻ سان.

$$\begin{aligned} 2x &= 1 \\ \Rightarrow x &= \frac{1}{2} \end{aligned}$$

مثال 04 $\log_x 8 = \frac{3}{2}$ جو ملهه لهو جيڪڏهن

حل: $\log_x 8 = \frac{3}{2}$

سگهه واري صورت آهي.

$$\begin{aligned} \Rightarrow &= (x)^{\frac{3}{2}} 8 \\ \Rightarrow &= (x)^{\frac{3}{2}} 2^3 \end{aligned}$$

ٻنهي طرف $\frac{2}{3}$ سگهه ڏيڻ سان

$$\begin{aligned} \Rightarrow &= (x^{\frac{3}{2}})^{\frac{2}{3}} (2^3)^{\frac{2}{3}} \\ \Rightarrow &= x 2^2 \\ \Rightarrow &= x 4 \end{aligned}$$

مثال 05 $\log_{64} x = \frac{-2}{3}$ جو ملهه لهو جيڪڏهن

حل:

سگهه واري صورت آهي.

$$\begin{aligned} (64)^{\frac{-2}{3}} &= x \Rightarrow (4^3)^{\frac{-2}{3}} = x \\ 4^{-2} &= x \Rightarrow \frac{1}{4^2} = x \\ \frac{1}{16} &= x \Rightarrow x = \frac{1}{16} \end{aligned}$$

مشق 2.2

1. هيٺين کي لاگريٿمي صورت ۾ لکو.

(i) $7^3 = 343$ (ii) $3^{-4} = \frac{1}{81}$

(iii) $10^{-3} = 0.001$ (iv) $\sqrt[3]{8^2} = 4$

2. هيٺين کي سگهه واري صورت ۾ لکو.

(i) $\log_{27} 81 = \frac{4}{3}$ (ii) $\log_2 \frac{1}{8} = -3$

(iii) $\log_{10} 1 = 0$ (iv) $\log_{10}(0.01) = -2$

3. هيٺين مان نامعلوم لهو.

(i) $\log_{32} x = \frac{1}{2}$ (ii) $\log_a 3 = \frac{1}{2}$ (iii) $\log_{\sqrt{5}} 25 = y$

(iv) $\log_4 x = \frac{3}{2}$ (v) $\log_{10} 100 = y$ (vi) $\log_a 64 = 3$

(vii) $\log_a 1 = 0$ (viii) $\log_{55} 55 = y$ (ix) $\log_{64} 8 = \frac{x}{2}$

2.2.2 عام لاگريٿم جي وصف لکو، عدد جي لاگريٿم جو گڻ ۽ مئنٽيسا جي

وصف لکو.

عام لاگريٿم

عام لاگريٿم جو بنياد 10 هوندو آهي. ان کي مصنوعي لاگريٿم يا برگز (Briggs

Logarithms) پڻ سڏيو آهي.

عام لاگريٿم کي $\log_{10} y$ يا صرف $\log y$ سان لکيو آهي.

$$\log y = x \Leftrightarrow y = 10^x$$

عدد جي لاگريٿم جا گڻ (Characteristics) ۽ مئنٽيسا (Mantissa)

ڪنهن عدد جو لاگريٿم ٻن حصن تي مشتمل هوندو آهي. هڪڙو سڄو

عددي حصو ۽ ٻيو ڏهائي يا اڻپور حصو. سڄي عددي حصي کي

گڻ (Characteristics) ۽ ڏهائي حصي کي مئنٽيسا (Mantissa) چئبو آهي.

لاگريٿم جو گڻ واڌو (Positive) يا کاتو (Negative) ٿي سگهي ٿو، پر مئنٽيسا

هميشه واڌو ٿيندو آهي سائنسي لکڻي ۾ 10 جي سگهه کي گڻ ۽ مئنٽيسا

معلوم ڪرڻ لاءِ لاگريٿم جدول استعمال ڪبي جيڪا اسان اڳيان بحث ڪنداسين.

مثال 01

هينين عددن جا گڻ معلوم ڪريو.
0.765, 0.04, 0.004567, 2.134, 23.56 and 3456.

گڻ	سائنسي لکڻي	عدد	نمبر شمار
1 يا $\bar{1}$	7.65×10^{-1}	0.765	1
2 يا $\bar{2}$	4.0×10^{-2}	0.04	2
3 يا $\bar{3}$	4.5467×10^{-3}	0.004567	3
0	2.134×10^0	2.134	4
1	2.356×10^1	23.56	5
3	3.456×10^3	3456	6

اسان مشاهدو ڪيو ته:

چا توهان سمجهيو؟

- 1 کان وڌيڪ عدد جي لاڳرٿم جو گڻ هميشه غير کاتو ٿيندو آهي.
 - 1 کان ننڍي عدد جي لاڳرٿم جو گڻ هميشه کاتو ٿيندو آهي.
- مئنٽيسا:

مئنٽيسا معلوم ڪرڻ لاءِ لاڳرٿم جدول استعمال ڪبي آهي هي جدول ڏهائي جي 7 انگن تائين لاڳرٿم معلوم ڪرڻ لاءِ ٺاهي ويئي آهي. پر عملي طرح هن سطح تي عددن جو درست لاڳرٿم معلوم ڪرڻ لاءِ چئن انگن واري لاڳرٿم جدول ڪارگر آهي.

2.2.3 عددن جو لاڳرٿم معلوم ڪرڻ لاءِ جدول جو استعمال ڪرڻ.

هينين مثال جدول جي استعمال سان لاڳرٿم معلوم ڪرڻ لاءِ مددگار ٿيندا.


مثال 01 هيٺ ڏنل لاڳرٿم عددن جو مئنٽيسا معلوم ڪريو.

(ii) $\log(0.002347)$. (i) $\log(43.254)$

(i) $\log(43.254)$

حل:

قدم 1: ڏهائي کي غور ۾ آڻڻ بنا، 4 انگن تي مشتمل عدد کڻو جيڪو 4325 آهي.



قدم 2: لاگرثم جدول ۾ ڪاٻي پاسي کان پهرئين ڪالم ۾ عدد 43 تلاش ڪريو.

قدم 3: ساڳي طرح ٽيون انگ ”2“ ڪٿي پهرئين ڪالم جي عدد 48 جي افقي ليڪ سان ”2“ واري ڪالم مان عدد 6355 لکو.


قدم 4: وري ساڳي طرح سان چوٿون انگ ”5“ کي فرق واري ڪالم (mean Difference) ۽ پهرئين ڪالم جي 43 واري افقي ليڪ سان تلاش ڪريو جيڪو عدد آهي ”5“.

قدم 5: عدد ”5“ کي 6355 ۾ جوڙ ڪريو، جيڪو 0.6360 ٿيندو اهو عدد (43.25) جو مئٽيسا آهي.




Logarithm Table

										Mean Differences									
	0	1	2	3	4	5	6	7	8	9	1	2	3	4	5	6	7	8	9
10	0000	0043	0086	0128	0017	0212	0253	0294	0334	0374	4	8	12	17	21	25	29	33	37
11	0414	0453	0492	0531	0569	0607	0645	0682	0719	0755	4	8	11	15	19	23	26	30	34
12	0792	0828	0864	0899	0934	0969	1004	1038	1072	1106	3	7	10	14	17	21	24	28	31
13	1139	1173	1206	1239	1271	1303	1335	1367	1399	1430	3	6	10	13	16	19	23	26	29
14	1461	1492	1523	1553	1584	1614	1644	1673	1703	1732	3	6	9	12	15	18	21	24	27
15	1761	1790	1818	1847	1875	1903	1931	1959	1987	2014	3	6	8	11	14	17	20	22	25
16	2041	2068	2095	2122	2148	2175	2201	2227	2253	2279	3	5	8	11	13	16	18	21	24
17	2304	2330	2355	2380	2405	2430	2455	2480	2504	2529	2	5	7	10	12	15	17	20	22
18	2553	2577	2601	2625	2648	2672	2695	2718	2742	2765	2	5	7	9	12	14	16	19	21
19	2788	2810	2833	2856	2878	2900	2923	2945	2967	2989	2	4	7	9	11	13	16	18	20
20	3010	3032	3054	3075	3096	3118	3139	3160	3181	3201	2	4	6	8	11	13	15	17	19
21	3222	3243	3263	3284	3304	3324	3345	3365	3385	3404	2	4	6	8	10	12	14	16	18
22	3424	3444	3464	3483	3502	3522	3541	3560	3579	3598	2	4	6	8	10	12	14	15	17
23	3617	3636	3655	3674	3692	3711	3729	3747	3766	3784	2	4	6	7	9	11	13	15	17
24	3802	3820	3838	3856	3874	3892	3909	3927	3945	3962	2	4	5	7	9	11	12	14	16
25	3979	3997	4014	4031	4048	4065	4082	4099	4116	4133	2	3	5	7	9	10	12	14	15
26	4150	4166	4183	4200	4216	4232	4249	4265	4281	4298	2	3	5	7	8	10	11	13	15
27	4314	4330	4346	4362	4378	4393	4409	4425	4440	4456	2	3	5	6	8	9	11	13	14
28	4472	4487	4502	4518	4533	4548	4564	4579	4594	4609	2	3	5	6	8	9	11	12	14
29	4624	4639	4654	4669	4683	4698	4713	4728	4742	4757	1	3	4	6	7	9	10	12	13
30	4771	4786	4800	4814	4829	4843	4857	4871	4886	4900	1	3	4	6	7	9	10	11	13
31	4914	4928	4942	4955	4969	4983	4997	5011	5024	5038	1	3	4	6	7	8	10	11	12
32	5051	5065	5079	5092	5105	5119	5132	5145	5159	5172	1	3	4	5	7	8	9	11	12
33	5185	5198	5211	5224	5237	5250	5263	5276	5289	5302	1	3	4	5	6	8	9	10	12
34	5315	5328	5340	5353	5366	5378	5391	5403	5416	5428	1	3	4	5	6	8	9	10	11
35	5441	5453	5465	5478	5490	5502	5514	5527	5539	5551	1	2	4	5	6	7	9	10	11
36	5563	5575	5587	5599	5611	5623	5635	5647	5658	5670	1	2	4	5	6	7	8	10	11
37	5682	5694	5705	5717	5729	5740	5752	5763	5775	5786	1	2	3	5	6	7	8	9	10
38	5798	5809	5821	5832	5843	5855	5866	5877	5888	5899	1	2	3	5	6	7	8	9	10
39	5911	5922	5933	5944	5955	5966	5977	5988	5999	6010	1	2	3	4	6	7	8	9	10
40	6021	6031	6042	6053	6064	6075	6085	6096	6107	6117	1	2	3	4	5	6	8	9	10
41	6128	6138	6149	6160	6170	6180	6191	6201	6212	6222	1	2	3	4	5	6	7	8	9
42	6232	6243	6253	6263	6274	6284	6294	6304	6314	6325	1	2	3	4	5	6	7	8	9
43	6335	6345	6355	6365	6375	6385	6395	6405	6415	6425	1	2	3	4	5	6	7	8	9
44	6435	6444	6454	6464	6474	6484	6493	6503	6513	6522	1	2	3	4	5	6	7	8	9
45	6532	6542	6551	6561	6571	6580	6590	6599	6609	6618	1	2	3	4	5	6	7	8	9
46	6628	6637	6646	6656	6665	6675	6684	6693	6702	6712	1	2	3	4	5	6	7	7	8
47	6721	6730	6739	6749	6758	6767	6776	6785	6794	6803	1	2	3	4	5	5	6	7	8
48	6812	6821	6830	6839	6848	6857	6866	6875	6884	6893	1	2	3	4	4	5	6	7	8
49	6902	6911	6920	6928	6937	6946	6955	6964	6972	6981	1	2	3	4	4	5	6	7	8
50	6990	6998	7007	7016	7024	7033	7042	7050	7059	7067	1	2	3	3	4	5	6	7	8
51	7076	7084	7093	7101	7110	7118	7126	7135	7143	7152	1	2	3	3	4	5	6	7	8
52	7160	7168	7177	7185	7193	7202	7210	7218	7226	7235	1	2	2	3	4	5	6	7	7
53	7243	7251	7259	7267	7275	7284	7292	7300	7308	7316	1	2	2	3	4	5	6	6	7



Logarithm Table

											Mean Differences								
	0	1	2	3	4	5	6	7	8	9									
54	7324	7332	7340	7348	7356	7364	7372	7380	7388	7396	1	2	2	3	4	5	6	6	7
55	7404	7412	7419	7427	7435	7443	7451	7459	7466	7474	1	2	2	3	4	5	5	6	7
56	7482	7490	7497	7505	7513	7520	7528	7536	7543	7551	1	2	2	3	4	5	5	6	7
57	7559	7566	7574	7582	7589	7597	7604	7612	7619	7627	1	2	2	3	4	5	5	6	7
58	7634	7642	7649	7657	7664	7672	7679	7686	7694	7701	1	1	2	3	4	4	5	6	7
59	7709	7716	7723	7731	7738	7745	7752	7760	7767	7774	1	1	2	3	4	4	5	6	7
60	7782	7789	7796	7803	7810	7818	7825	7832	7839	7846	1	1	2	3	4	4	5	6	6
61	7853	7860	7868	7875	7882	7889	7896	7903	7910	7917	1	1	2	3	4	4	5	6	6
62	7924	7931	7938	7945	7952	7959	7966	7973	7980	7987	1	1	2	3	3	4	5	6	6
63	7993	8000	8007	8014	8021	8028	8035	8041	8048	8055	1	1	2	3	3	4	5	5	6
64	8062	8069	8075	8082	8089	8096	8102	8109	8116	8122	1	1	2	3	3	4	5	5	6
65	8129	8136	8142	8149	8156	8162	8169	8176	8182	8189	1	1	2	3	3	4	5	5	6
66	8195	8202	8209	8215	8222	8228	8235	8241	8248	8254	1	1	2	3	3	4	5	5	6
67	8261	8267	8274	8280	8287	8293	8299	8306	8312	8319	1	1	2	3	3	4	5	5	6
68	8325	8331	8338	8344	8351	8357	8363	8370	8376	8382	1	1	2	3	3	4	4	5	6
69	8388	8395	8401	8407	8414	8420	8426	8432	8439	8445	1	1	2	3	3	4	4	5	6
70	8451	8457	8463	8470	8476	8482	8488	8494	8500	8506	1	1	2	2	3	4	4	5	6
71	8513	8519	8525	8531	8537	8543	8549	8555	8561	8567	1	1	2	2	3	4	4	5	5
72	8573	8579	8585	8591	8597	8603	8609	8615	8621	8627	1	1	2	2	3	4	4	5	5
73	8633	8639	8645	8651	8657	8663	8669	8675	8681	8686	1	1	2	2	3	4	4	5	5
74	8692	8698	8704	8710	8716	8722	8727	8733	8739	8745	1	1	2	2	3	3	4	5	5
75	8751	8756	8762	8768	8774	8779	8785	8791	8797	8802	1	1	2	2	3	3	4	5	5
76	8808	8814	882	8825	8831	8837	8842	8848	8854	8859	1	1	2	2	3	3	4	5	5
77	8865	8871	8876	8882	8887	8893	8899	8904	8910	8915	1	1	2	2	3	3	4	4	5
78	8921	8927	8932	8938	8943	8949	8954	8960	8965	8971	1	1	2	2	3	3	4	4	5
79	8976	8982	8987	8993	8998	9004	9009	9015	9020	9025	1	1	2	2	3	3	4	4	5
80	9031	9036	9042	9047	9053	9058	9063	9069	9074	9079	1	1	2	2	3	3	4	4	5
81	9085	9090	9096	9101	9106	9112	9117	9122	9128	9133	1	1	2	2	3	3	4	4	5
82	9138	9143	9149	9154	9159	9165	9170	9175	9180	9186	1	1	2	2	3	3	4	4	5
83	9191	9196	9201	9206	9212	9217	9222	9227	9232	9238	1	1	2	2	3	3	4	4	5
84	9243	9248	9253	9258	9263	9269	9274	9279	9284	9289	1	1	2	2	3	3	4	4	5
85	9294	9299	9304	9309	9315	9320	9325	9330	9335	9340	1	1	2	2	3	3	4	4	5
86	9345	9350	9355	9360	9365	9370	9375	9380	9385	9390	1	1	2	2	3	3	4	4	5
87	9395	9400	9405	9410	9415	9420	9425	9430	9435	9440	0	1	1	2	2	3	3	4	4
88	9445	9450	9455	9460	9465	9469	9474	9479	9484	9489	0	1	1	2	2	3	3	4	4
89	9494	9499	9504	9509	9513	9518	9523	9528	9533	9538	0	1	1	2	2	3	3	4	4
90	9542	9547	9552	9557	9562	9566	9571	9576	9581	9586	0	1	1	2	2	3	3	4	4
91	9590	9595	9600	9605	9609	9614	9619	9624	9628	9633	0	1	1	2	2	3	3	4	4
92	9638	9643	9647	9652	9657	9661	9666	9671	9675	9680	0	1	1	2	2	3	3	4	4
93	9685	9689	9694	9699	9703	9708	9713	9717	9722	9727	0	1	1	2	2	3	3	4	4
94	9731	9736	9741	9745	9750	9754	9759	9763	9768	9773	0	1	1	2	2	3	3	4	4
95	9777	9782	9786	9791	9795	9800	9805	9809	9814	9818	0	1	1	2	2	3	3	4	4
96	9823	9827	9832	9836	9841	9845	9850	9854	9859	9863	0	1	1	2	2	3	3	4	4
97	9868	9872	9877	9881	9886	9890	9894	9899	9903	9908	0	1	1	2	2	3	3	4	4
98	9912	9917	9921	9926	9930	9934	9939	9943	9948	9952	0	1	1	2	2	3	3	4	4
99	9956	9961	9965	9969	9974	9978	9983	9987	9991	9996	0	1	1	2	2	3	3	3	4



$$\log(0.002347) \quad (\text{ii})$$

حل: $\log(0.002347)$ ۾ ڏهائي ۽ ٻڙين کي غور ۾ آڻڻ بنا چئن انگن تي مشتمل عدد 2347 ڪڍو. پهرئين ڪالم جي 23 قطار تي نشان ڏيو، عدد 4 کي چوٿين ڪالم ۽ 23 قطار جي ڪاٺ واري رقم 3692 ڪڍو. آخري عدد 7 کي فرق واري ڪالم (Mean Difference) ۾ تلاش ڪريو جيڪو 13 آهي. هن عدد کي 3692 ۾ جوڙ ڪريو جنهن جو حاصل 3705 ٿيندو. تنهنڪري گهربل مئٽيسا ٿيندو. هيٺين عددن جو لاگرتم معلوم ڪريو.

مثال 02

$$(i) \quad 278.27 \quad (ii) \quad 0.07058$$

حل: (i) فرض ڪريو ته $x = 278.27$

ٻنهي پاسي لاگرتم ڏيڻ سان

$$\text{Log} x = \log(278.27) \quad \therefore$$

قدم 1: عدد کي 4 انگن تائين ڪڍو جيڪو ٿيندو 278.3

قدم 2: $278.3 = 2.783 \times 10^2$ تنهنڪري گڻ آهي 2

قدم 3: مئٽيسا معلوم ڪرڻ لاءِ، ڏهائي تي غور ڪرڻ بنا عدد ٿيندو 2783

لاگرتم جي جدول استعمال ڪري مئٽيسا حاصل ڪريو، جيڪو

0.4445 ٿيندو.

قدم 4: گڻ ۽ مئٽيسا کي جوڙ ڪريو جيڪو ٿيندو

$$\log x = 2.4445$$

حل: (ii) فرض ڪريو ته $x = 0.07058$

قدم 1: ڏهائي ۽ ٻڙي تي غور ڪرڻ بنا چئن انگن

وارو عدد ٿيندو 7058

قدم 2: مليل عدد کي سائنسي لکڻي ۾ تبديل ڪريو

$$\text{تہ گڻ ٿيندو } 7058 \times 10^{-2} \quad \text{يا } 2^{-2}$$

قدم 3: ڏهائي کي غور ۾ آڻڻ بنا 7058 جو

مئٽيسا معلوم ڪريو. لاگرتم جي جدول استعمال

ڪريو ته مئٽيسا ٿيندو 0.8487

قدم 4: گڻ ۽ مئٽيسا کي جوڙ ڪريو ته حاصل ٿيندو

$$\text{Log} x = \log(0.07058) = \bar{2}.8487$$



ياد رکڻو ته

ساڳي ترتيب واري اهم

(Significant) عددن جي

لاگرتم جو مئٽيسا به

ساڳيو ٿيندو.

مثال طور: 0.004576،

0.4576، 0.04576،

۽ غيره جو مئٽيسا به

ساڳيو آهي.

مشق 2.3

1. هيٺين لاگريٿم جو گڻ ۽ مٿنيسا معلوم ڪريو.

- (i) 8 (ii) 5054 (iii) 9.992
(iv) 765.3 (v) 0.00329 (vi) 0.0000300

2. هيٺين عددن جو لاگريٿم معلوم ڪريو.

- (i) 9 (ii) 55.56 (iii) 29.592
(iv) 405.3 (v) 0.00469 (vi) 0.000076

3. جيڪڏهن $\log 31.09 = 1.4926$ ، ته لاگريٿم جدول استعمال ڪرڻ کان بغير هنن جو ملهه معلوم ڪريو.

- (i) $\log 3.109$ (ii) $\log 310.9$ (iii) $\log 0.003109$
(iv) $\log 3109$ (v) $\log 310.942$ (vi) $\log 310926$

2.2.4 ضد لاگريٿم جو تصور ڏيو ۽ جدول استعمال ڪري عددن جو ضد لاگريٿم معلوم ڪريو.

جيڪڏهن $\log x = y$ ، ته x کي y جو ضد لاگريٿم چئبو آهي ۽ ان کي لکيو $x = \text{antilog } y$ ، جيڪڏهن x جو عام لاگريٿم y آهي جيئن جيڪڏهن $\log x = y$ ته x معلوم ڪرڻ لاءِ ضد لاگريٿم جون جدولون هيٺ ڏنل قاعدن مطابق استعمال ڪندا سين.


- قاعدو 1: جيڪڏهن گڻ غير کاتو n آهي ته پوءِ ضد لاگريٿم ۾ $n+1$ انگ سجھي حصي ۾ هوندو.
قاعدو 2: جيڪڏهن گڻ کاتو n آهي ته پوءِ ضد لاگريٿم ۾ $n-1$ ، ٻڙيون ڏهائي جي نشاني کان پوءِ هونديون.

ضد لاگريٿم جو طريقو هيٺين مثالن سان واضح ڪيل آهي.

Antilogarithm Table											Mean Differences								
	0	1	2	3	4	5	6	7	8	9	1	2	3	4	5	6	7	8	9
.00	1002	1005	1007	1009	1012	1014	1016	1019	1021	0000	0	0	1	1	1	1	2	2	2
.01	1023	1026	1028	1030	1033	1035	1038	1040	1042	1045	0	0	1	1	1	1	2	2	2
.02	1047	1050	1052	1054	1057	1059	1062	1064	1067	1069	0	0	1	1	1	1	2	2	2
.03	1072	1074	1076	1079	1081	1084	1086	1089	1091	1094	0	0	1	1	1	1	2	2	2
.04	1096	1099	1102	1104	1107	1109	1112	1114	1117	1119	0	1	1	1	1	2	2	2	2
.05	1122	1125	1127	1130	1132	1135	1138	1140	1143	1146	0	1	1	1	1	2	2	2	2
.06	1148	1151	1153	1156	1159	1161	1164	1167	1169	1172	0	1	1	1	1	1	2	2	2
.07	1175	1178	1180	1183	1186	1189	1191	1194	1197	1199	0	1	1	1	1	2	2	2	2

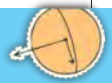
Antilogarithm Table

	0	1	2	3	4	5	6	7	8	9	1	2	3	4	5	6	7	8	9
.08	1202	1205	1208	1211	1213	1216	1219	1222	1225	1227	0	1	1	1	1	2	2	2	3
.09	1230	1233	1236	1239	1242	1245	1247	1250	1253	1256	0	1	1	1	1	2	2	2	3
.10	1259	1262	1265	1268	1271	1274	1276	1279	1282	1285	0	1	1	1	1	2	2	2	3
.11	1288	1291	1294	1297	1300	1303	1306	1309	1312	1315	0	1	1	1	2	2	2	2	3
.12	1318	1321	1324	1327	1330	1334	1337	1340	1343	1346	0	1	1	1	2	2	2	2	3
.13	1349	1352	1355	1358	1361	1365	1368	1371	1374	1377	0	1	1	1	2	2	2	3	3
.14	1380	1384	1387	1390	1393	1396	1400	1403	1406	1409	0	1	1	1	2	2	2	3	3
.15	1413	1416	1419	1422	1426	1429	1432	1435	1439	1442	0	1	1	1	2	2	2	3	3
.16	1445	1449	1452	1455	1459	1462	1466	1469	1472	1476	0	1	1	1	2	2	2	3	3
.17	1479	1483	1486	1489	1493	1496	1500	1503	1507	1510	0	1	1	1	2	2	2	3	3
.18	1514	1517	1521	1524	1528	1531	1535	1538	1542	1545	0	1	1	1	2	2	2	3	3
.19	1549	1552	1556	1560	1563	1567	1570	1574	1578	1581	0	1	1	1	2	2	3	3	3
.20	1585	1589	1592	1596	1600	1603	1607	1611	1614	1618	0	1	1	1	2	2	3	3	3
.21	1622	1626	1629	1633	1637	1641	1644	1648	1652	1656	0	1	1	2	2	2	3	3	3
.22	1660	1663	1667	1671	1675	1679	1683	1687	1690	1694	0	1	1	2	2	2	3	3	3
.23	1698	1702	1706	1710	1714	1718	722	1726	1730	1734	0	1	1	2	2	2	3	3	4
.24	1738	1742	1746	1750	1754	1758	1762	1766	1770	1774	0	1	1	2	2	2	3	3	4
.25	1778	1782	1786	1791	1795	1799	1803	1807	1811	1816	0	1	1	2	2	2	3	3	4
.26	1820	1821	1828	1832	1837	1841	1845	1849	1854	1858	0	1	1	2	2	3	3	3	4
.27	1862	1866	1871	1875	1879	1884	1888	1892	1897	1901	0	1	1	2	2	3	3	3	4
.28	1905	1910	1914	1919	1923	1928	1932	1936	1941	1945	0	1	1	2	2	3	3	4	4
.29	1950	1954	1959	1963	1968	1972	1977	1982	1986	1991	0	1	1	2	2	3	3	4	4
.30	1995	2000	2004	2009	2014	2018	2023	2028	2032	2037	0	1	1	2	2	3	3	4	4
.31	2042	2046	2051	2056	2061	2065	2070	2075	2080	2084	0	1	1	2	2	3	3	4	4
.32	2089	2094	2099	2104	2109	2113	2118	2123	2128	2133	0	1	1	2	2	3	3	4	4
.33	2138	2143	2148	2153	2158	2163	2168	2173	2178	2183	0	1	1	2	2	3	3	4	4
.34	2188	2193	2198	2203	2208	2213	2218	2223	2228	2234	1	1	2	2	3	3	4	4	5
.35	2239	2244	2249	2254	2259	2265	2270	2275	2280	2286	1	1	2	2	3	3	4	4	5
.36	2291	2296	2301	2307	2312	2317	2323	2328	2333	2339	1	1	2	2	3	3	4	4	5
.37	2344	2350	2355	2360	2366	2371	2377	2382	2388	2393	1	1	2	2	3	3	4	4	5
.38	2399	2404	2410	2415	2421	2427	2432	2438	2443	2449	1	1	2	2	3	3	4	4	5
.39	2455	2460	2466	2472	2477	2483	2489	2495	2500	2506	1	1	2	2	3	3	4	5	5
.40	2512	2518	2523	2529	2535	2541	2547	2553	2559	2564	1	1	2	2	3	4	4	5	5
.41	2570	2576	2582	2588	2594	2600	2606	2612	2618	2624	1	1	2	2	3	4	4	5	5
.42	2630	2636	2642	2649	2655	2661	2667	2673	2679	2685	1	1	2	2	3	4	4	5	6
.43	2692	2698	2704	2710	2716	2723	2729	2735	2742	2748	1	1	2	3	3	4	4	5	6
.44	2754	2761	2767	2773	2780	2786	2793	2799	2805	2812	1	1	2	3	3	4	4	5	6



Antilogarithm Table

	0	1	2	3	4	5	6	7	8	9	1	2	3	4	5	6	7	8	9
.45	2818	2825	2831	2838	2844	2851	2858	2864	2871	2877	1	1	2	3	3	4	5	5	6
.46	2884	2891	2897	2904	2911	2917	2924	2931	2938	2944	1	1	2	3	3	4	5	5	6
.47	2951	2958	2965	2972	2970	2985	2992	2999	3006	3013	1	1	2	3	3	4	5	5	6
.48	3020	3027	3034	3041	3048	3055	3062	3069	3076	3083	1	1	2	3	4	4	5	6	6
.49	3090	3097	3105	3112	3119	3126	3133	3141	3148	3155	1	1	2	3	4	4	5	6	6
.50	3162	3170	3177	3184	3192	3199	3206	3214	3221	3228	1	1	2	2	4	4	5	6	7
.51	3236	3243	3251	3258	3266	3273	3281	3289	3296	3304	1	2	2	3	4	5	5	6	7
.52	3311	3319	3327	3334	3342	3350	3357	3365	3373	3381	1	2	2	3	4	5	5	6	7
.53	3388	3396	3404	3412	3420	3428	3436	3443	3451	3459	1	2	2	3	4	5	6	6	7
.54	3467	3475	3483	3491	3499	3508	3516	3524	3532	3540	1	2	2	3	4	5	6	6	7
.55	3548	3556	3565	3573	3581	3589	3597	3606	3614	3622	1	2	2	3	4	5	6	7	7
.56	3631	3639	3648	3656	3664	3673	3681	3690	3698	3707	1	2	3	3	4	5	6	7	8
.57	3715	3724	3733	3741	3750	3758	3767	3776	3784	3793	1	2	3	3	4	5	6	7	8
.58	3802	3811	3819	3828	3837	3846	3855	3864	3873	3882	1	2	3	4	4	5	6	7	8
.59	3890	3899	3908	3917	3926	3936	3945	3954	3963	3972	1	2	3	4	5	5	6	7	8
.60	3981	3990	3999	4009	4018	4027	4036	4046	4055	4064	1	2	3	4	5	6	6	7	8
.61	4074	4083	4093	4102	4111	4121	4130	4140	4150	4159	1	2	3	4	5	6	7	8	9
.62	4169	4178	4188	4198	4207	4217	4227	4236	4246	4256	1	2	3	4	5	6	7	8	9
.63	4266	4276	4285	4295	4305	4315	4325	4335	4345	4355	1	2	3	4	5	6	7	8	9
.64	4365	4374	4385	4395	4406	4416	4426	4436	4446	4457	1	2	3	4	5	6	7	8	9
.65	4467	4477	4487	4498	4508	4519	4529	4539	4550	4560	1	2	3	4	5	6	7	8	9
.66	4571	4581	4592	4603	4613	4624	4634	4645	4656	4667	1	2	3	4	5	6	7	9	10
.67	4677	4688	4699	4710	4721	4732	4742	4753	4764	4775	1	2	3	4	5	7	8	9	10
.68	4786	4797	4808	4819	4831	4842	4853	4864	4875	4887	1	2	3	4	6	7	8	9	10
.69	4898	4909	4920	4932	4943	4955	4966	4977	4989	5000	1	2	3	5	6	7	8	9	10
.70	5012	5023	5035	5047	5058	4070	5082	5093	5105	5117	1	2	4	5	6	7	8	9	11
.71	5129	5140	5152	5164	5176	5188	5200	5212	5224	5236	1	2	4	5	6	7	8	10	11
.72	5248	5260	5272	5284	5297	5309	5321	5333	5346	5358	1	2	4	5	6	7	9	10	11
.73	5370	5383	5395	5408	5420	5433	5445	5458	5470	5483	1	3	4	5	6	8	9	10	11
.74	5495	5508	5521	5534	5546	5559	5572	5585	5598	5610	1	3	4	5	6	8	9	10	12
.75	5623	5636	5649	5662	5675	5689	5702	5715	5728	5741	1	3	4	5	7	8	9	10	12
.76	5754	5768	5781	5794	5808	5821	5834	5848	5861	5875	1	3	4	5	7	8	9	11	12
.77	5888	5902	5916	5929	5943	5957	5970	5984	5998	6012	1	3	4	5	7	8	10	11	12
.78	6026	6039	6053	6067	6081	6095	6109	6124	6138	6152	1	3	4	6	7	8	10	11	13
.79	6166	6180	6194	6209	6223	6237	6252	6266	6281	6295	1	3	4	6	7	9	10	11	13
.80	6310	6324	6339	6353	6368	6383	6397	6415	6427	6442	1	3	4	6	7	9	10	12	13
.81	6457	6471	6486	6501	6516	6531	6546	6561	6577	6592	2	3	5	6	8	9	11	12	14



Antilogarithm Table

	0	1	2	3	4	5	6	7	8	9	1	2	3	4	5	6	7	8	9
.82	6607	6622	6637	6653	6668	6683	6699	6714	6730	6745	2	3	5	6	8	9	11	12	14
.83	6761	6776	6792	6808	6823	6839	6855	6871	6887	6902	2	3	5	6	8	9	11	13	14
.84	6918	6934	6950	6966	6982	6998	7015	7031	7047	7063	2	3	5	6	8	10	11	13	15
.85	7079	7096	7112	7129	7145	7161	7178	7196	7211	7228	2	3	5	7	8	10	12	13	15
.86	7244	7261	7278	7295	7311	7328	7345	7362	7379	7396	2	3	5	7	8	10	12	13	15
.87	7413	7430	7447	7464	7482	7499	7516	7534	7551	7568	2	3	5	7	9	10	12	14	16
.88	7586	7603	7621	7638	7656	7674	7691	7709	7727	7745	2	4	5	7	9	11	12	14	16
.89	7762	7780	7798	7816	7834	7852	7870	7889	7907	7925	2	4	5	7	9	11	13	14	16
.90	7943	7962	7980	7998	8017	8035	8054	8072	8091	8110	2	4	6	7	9	11	13	15	17
.91	8128	8147	8166	8185	8204	8222	8241	8260	8279	8299	2	4	6	8	9	11	13	15	17
.92	8318	8337	8356	8275	8395	8414	8433	8453	8472	8492	2	4	6	8	10	12	14	15	17
.93	8511	8531	8551	8570	8590	8610	8630	8650	8670	8690	2	4	6	8	10	12	14	16	18
.94	8710	8730	8750	8770	8790	8810	8831	8851	8872	8892	2	4	6	8	10	12	14	16	18
.95	8913	8933	8954	8974	8995	9016	9036	9057	9078	9099	2	4	6	8	10	12	15	17	19
.96	9120	9141	9162	9183	9204	9226	9247	9268	9290	9311	2	4	6	8	11	13	15	17	19
.97	9333	9354	9376	9397	9419	####	9462	9484	9506	9528	2	4	7	9	11	13	15	17	20
.98	9550	9572	9594	9616	9638	9661	9683	9705	9727	9750	2	4	7	9	11	13	16	18	20
.99	9772	9795	9817	9840	9863	9886	9908	9931	9954	9977	2	5	7	9	11	14	16	18	20



مثال 01 عدد معلوم ڪريو جنهن جو لاگرتم آهي.

(i) 1.3247 (ii) $\bar{2}.1324$

حل (i): فرض ڪريو ته $x = \text{anti log}(1.3247)$ هتي $\text{Log } x = 1.3247$

قدم 1: هاڻ گڻ $= 1$ ۽ مئنيٽيسا $= 0.3247$
 قدم 2: ضد لاگرتم جدول ۾ 32 واري قطار کي ظاهر ڪريو.
 قدم 3: ٽئين انگ کي جيڪو ”4“ آهي 32 واري قطار ۾ چوٿين ڪالم جي ڪاٺ سان معلوم ڪريو جيڪو 2109 آهي.

قدم 4: وري فرق واري ستين ڪالم ۾ انگ تلاش ڪريو جيڪو 3 آهي

قدم 5: 3 کي 2109 ۾ جوڙ ڪريو جيڪو ٿيندو 2112 .

قدم 6: جيئن ته گڻ 1 آهي تنهنڪري ڏهائي پن درجن کان پوءِ ڪاٺي کان ساڄي طرف ڏيو ته گهربل ضد لاگرتم ٿيندو 21.12 .

حل (ii): فرض ڪريو ته $x = \text{antilog}(\bar{2}.1324)$ هتي $\text{Log } x = \bar{2}.1324$

هتي گڻ $\bar{2}$ ۽ مئنيٽيسا $= 0.1324$

هاڻ ضد لاگرتم جدول ۾ 13 واري قطار کي ظاهر ڪريو ۽ ڪالم 2 جي ڪاٺ سان ملندو 1355 ۽ چوٿين ڪالم جو فرق آهي 1 تنهنڪري اهو ٿيندو $1355 + 1 = 1356$ جيئن ته گڻ آهي 2- تنهنڪري گهربل عدد آهي 0.01356

2.2.5 ڪئليڪيوليٽر جي استعمال سان لاگرتم ۽ ضد لاگرتم معلوم ڪرڻ.

مثال 1: ڪئليڪيوليٽر جو استعمال ڪري $\text{log}(41230)$ جي قيمت معلوم

ڪريو.

حل: فرض ڪريو ته $x = \text{log } 41230$

اسان جو پهريو قدم آهي log بٽن کي دٻايو هاڻ (41230)

رقم لکو.

log(41230)				
4.6152133348				
sin	cos	tan	<input checked="" type="radio"/> Deg <input type="radio"/> Rad	
\sin^{-1}	\cos^{-1}	\tan^{-1}	π	e
x^y	x^3	x^2	e^x	10^x
$y \div x$	$\sqrt[3]{x}$	\sqrt{x}	ln	log
()	1/x	%	n!
7	8	9	+	Back
4	5	6	-	Ans
1	2	3	\times	M+
0	.	EXP	\div	M-
\pm	RND	AC	=	MR

ڏنگين بند ڪري ”=” واري بٽن کي دٻايو



اسان ڏسنداسين ته $\log(41230) = 4.615213335$

تنهنڪري $\log(41230) = 4.615213335$

مثال 02 ڪئلكيوليٽر استعمال ڪري $\text{antilog}(4.615213335)$ جو ملهه لھو.

حل: اسان ضد لاگريٿم بٽن استعمال ڪنداسين.

(i) shift key يا function 2nd بٽن کي دٻايو.

(ii) log بٽن کي دٻايو.

(iii) 4.615213335 ڏنگين کي گڏ ڪري لکو.

(iv) Enter بٽن کي دٻايو

ضد لاگريٿم جو جواب $\text{antilog}(4.615213335) = 41230.00002$

2.3 عام لاگريٿم ۽ قدرتي لاگريٿم ۾ فرق معلوم ڪرڻ.

عام لاگريٿم جو بنياد "10" هوندو آهي، ۽ ان کي $\log_0(x)$ جي بدران

$\log(x)$ سان ظاهر ڪيو ويندو آهي. جڏهن ته قدرتي لاگريٿم جو بنياد

"e" هوندو آهي (e هر غيرناطق عدد آهي جنهن جي قيمت $2.718281\dots$

آهي) ۽ ان کي $\log_e(x)$ جي بدران $\ln x$ سان ظاهر ڪيو ويندو آهي.

مشق 2.4

1. جدول استعمال ڪري عدد معلوم ڪريو جن جا عام لاگريٿم هيٺ ڏجن ٿا.

(i) 0.35749 (ii) 3.56721 (iii) $\bar{1}.7427$

(iv) 5.8196 (v) $\bar{4}.3847$ (vi) 0.9187

2. ڪئلكيوليٽر استعمال ڪري هيٺين عددن جا لاگريٿم معلوم ڪريو.

(i) 900 (ii) 45.54 (iii) 36582

(iv) 826.3 (v) 0.00851 (vi) 0.000097

3. ڪئلكيوليٽر استعمال ڪري هيٺين مان x جو ملهه معلوم ڪريو.

(i) $\log x = 1.7505$ (ii) $\log x = 0.6609$ (iii) $\log x = \bar{1}.6132$


(iv) $\log x = 3.4800$ (v) $\log x = \bar{7}.0038$ (vi) $\log x = 0.2665$

2.4 لاگريٿم جا قاعدا (Laws of Logarithms)

2.4.1 هيٺيان لاگريٿم جا قاعدا ثابت ڪريو.

(i) $\log_a(mn) = \log_a m + \log_a n$

(ii) $\log_a\left(\frac{m}{n}\right) = \log_a m - \log_a n$



$$(iii) \log_a m^n = n \log_a m$$

$$(iv) \log_a n = \frac{\log_b n}{\log_b a}$$

$$\log_a (mn) = \log_a m + \log_a n \quad \text{۽ } m, n, a, a > 0, a \neq 1, \quad (i)$$

ثابتي: فرض ڪريو ته $\log_a m = x$ ۽ $\log_a n = y$ ته پوءِ

$$m = a^x \quad \text{۽} \quad n = a^y$$

$$\text{هاڻ } mn = a^x \cdot a^y$$

$$mn = a^{x+y} \quad (\text{سگهن جو قاعدو})$$

سگهه واري صورت کي لاگريٽم واري صورت ۾ تبديل ڪرڻ سان

$$\log_a (mn) = x + y$$

$$\log_a (mn) = \log_a m + \log_a n \quad \text{تنهنڪري}$$

ٻن عددن جي ضرب ايت جو لاگريٽم انهن جي الڳ الڳ لاگريٽم جي جوڙ برابر آهي.

(ii) حقيقي عددن m, n, a ۽ $a > 0, a \neq 1$ لاءِ

$$\log_a \frac{m}{n} = \log_a m - \log_a n$$

ثابتي: فرض ڪريو ته $\log_a m = x$ ۽ $\log_a n = y$ ته پوءِ

$$m = a^x \quad \text{۽} \quad n = a^y$$

$$\text{هاڻ } \frac{m}{n} = \frac{a^x}{a^y}$$

$$\frac{m}{n} = a^{x-y}$$

سگهه واري صورت کي لاگريٽم واري صورت ۾ تبديل ڪرڻ سان

$$\Rightarrow \log_a \frac{m}{n} = x - y$$

$$\log_a \frac{m}{n} = \log_a m - \log_a n \quad \text{تنهنڪري}$$

ٻن عددن جي وٺڻ ايت جو لاگريٽم انهن جي الڳ الڳ لاگريٽم جي تفاوت برابر آهي.

(iii) حقيقي عددن m, n, a ۽ $a > 0, a \neq 1$ لاءِ

$$\log_a m^n = n \log_a m$$



ثابتي: فرض ڪريو ته $\log_a m = x$

$$m = a^x \quad \text{ته پوءِ}$$

$$m^n = (a^x)^n \quad \text{هاڻ}$$

$$m^n = a^{nx}$$

سگه واري صورت کي لاگرتھم واري صورت ۾ تبديل ڪرڻ سان

$$\Rightarrow \log_a m^n = nx$$

$$\log_a m^n = n \log_a m \quad \text{تنهنڪري}$$

عددن جي n سگه جو لاگرتھم، انهيءَ عدد جي لاگرتھم کي n سان ضرب جي برابر آهي.

(iv) بنيادن جي بدلائڻ واري خاصيت

حقيقي عددن $a > 0, a \neq 1$ ۽ m, n, a

$$\log_a n = \frac{\log_b n}{\log_b a}$$

ثابتي: فرض ڪريو ته $\log_a n = x$

$$n = a^x \quad \text{ته پوءِ}$$

بنياد b تي ٻنهي طرف لاگرتھم وٺڻ سان

$$\log_b n = \log_b a^x$$

$$\log_b n = x \log_b a \quad \therefore \log_b m^n = n \log_b m$$

$$x = \frac{\log_b n}{\log_b a}$$

$$\log_a n = \frac{\log_b n}{\log_b a} \quad \text{تنهنڪري}$$

مثال 01 $\log_a(2bc)$ کي لاگرتھم جي جوڙ ۾ ظاهر ڪريو.

لاگرتھم جو قاعدو استعمال ڪرڻ سان

$$\log_a(2bc) = \log_a 2 + \log_a b + \log_a c,$$

لاگرتھم جي جوڙ ۾ ظاهر ڪيو ويو.

مثال 02 $\log(52.5 \times 63 \times 4.567)$ کي لاگرتھم جي جوڙ ۾ ظاهر ڪريو.

لاگرتھم جو قاعدو استعمال ڪرڻ سان

$$\log(52.5 \times 63 \times 4.567) = \log 52.5 + \log 63 + \log 4.567$$

لاگرتھم جي جوڙ ۾ ظاهر ڪيو ويو.



نوٽ ڪريو ته

- (i) $\log_a(mn) \neq \log_a m \times \log_a n$
(ii) $\log_a m + \log_a n \neq \log_a (m + n)$

مثال 03 $\log\left(\frac{213.1}{34.22}\right)$ ڪي لاگريٽم تفاوت ۾ ظاهر ڪريو.

حل: لاگريٽم جي تفاوت جو قاعدو استعمال ڪريو ته $\log\left(\frac{213.1}{34.22}\right)$ ٿيندو

$$\log\left(\frac{213.1}{34.22}\right) = \log 213.1 - \log 34.22.$$

لاگريٽم جي تفاوت ۾ ظاهر ڪيو ويو.

مثال 04 $\log_a 2^x$ ڪي ضرب واري صورت ۾ ظاهر ڪريو.

حل: اسان کي خبر آهي ته $\log_a m^n = n \log_a m$

$$\therefore \log_a 2^x = x \log_a 2$$

مشق 2.5

1. هيٺين لاگريٽم ڪي $\log_a x$, $\log_a y$ ۽ $\log_a z$ جي رقمن جي صورت ۾

لکو. (i) $\log_a \frac{x^3 y}{z^2}$ (ii) $\log_a \sqrt{xy^2 z}$

(iii) $\log_a \left(\sqrt[3]{x^{-1} \sqrt{y^3}} \div \sqrt{y^3 \sqrt{x}} \right)$ (iv) $\log_a \frac{x \sqrt{y^3}}{\sqrt[3]{z^2 x^5}}$

2. هيٺين کي هڪ لاگريٽم جي صورت ۾ گهٽايو.

(i) $\log_a 20 - \log_a 15 + \frac{1}{2} \log_a \frac{9}{2}$

(ii) $\frac{1}{3} \log_a (x-1)^3 + \frac{10}{9} \log_a (x+1) - \frac{1}{9} \log_a (x+1)$

(iii) $\log x - 2 \log x + 3 \log (x+1) - \log (x^2 - 1)$.



3. جيڪڏهن $\log 5 = 0.6990$ ۽ $\log 2 = 0.3010$, $\log 3 = 0.4771$ ته جدول استعمال ڪرڻ کان بغير هيٺين جون قيمتون معلوم ڪريو.

(i) $\log 15$ (ii) $\log 64$ (iii) $\log \sqrt{5 \times 2}$ (iv) $\log 48$

(v) $\log \sqrt{18}$ (vi) $\log 30$ (vii) $\log \frac{8}{3}$ (viii) $\log \frac{5}{\sqrt{3}}$

4. هيٺيان ثابت ڪريو.

(i) $\log_b m \times \log_m a = \log_b a$ (ii) $\log_a b \times \log_c a = \log_c b$

(iii) $\log_b a \cdot \log_c b \frac{1}{\log_c a} = 1$ (iv) $\log_a b = \frac{1}{\log_b a}$

5. هيٺين جي چڪاس ڪريو.

(i) $\log_5 7 \times \log_7 25 = 2$ (ii) $\log_3 2 \times \log_2 81 = 4$

(iii) $\log_5 343 \times \log_7 25 = 6$ (iv) $\log_6 16 \times \log_2 216 = 12$

2.5 لاگرٿم جي قاعدن جا استعمال

2.5.1 لاگرٿم جي قاعدن کي استعمال ڪري، ضرب وند ۽ سگهن جي ڊگهن طريقن کي جوڙ، ڪٽ وغيره جي آسان طريقن ۾ تبديل ڪريو. هيٺيان مثال لاگرٿم جي قاعدن جي استعمال کي سمجهڻ ۾ مدد ڪندا.

مثال 01 لاگرٿم استعمال ڪري $(8.573)(28.74)$ جي قيمت معلوم ڪريو.

حل: فرض ڪريو ته $x = (8.573)(28.74)$

پنهني طرف لاگرٿم وٺڻ سان اسان کي ملندو

$$\therefore \log x = \log(8.573)(28.74)$$

$$\Rightarrow \log x = \log(8.573) + \log(28.74)$$


$$\Rightarrow \log x = 0.9332 + 1.4585$$

$$\Rightarrow \log x = 2.3917$$

$$\therefore x = \text{antilog}(2.3917)$$

$$x = 246.4$$

تنهنڪري



مثال 02: لاگرتھم جي مدد سان $\frac{213.1}{34.22}$ جو ملهه معلوم ڪريو.

حل: فرض ڪريو ته $x = \frac{213.1}{34.22}$

ٻنهي طرف لاگرتھم وٺڻ سان اسان کي ملندو

$$\log x = \log \left(\frac{213.1}{34.22} \right)$$

$$\Rightarrow \log x = \log \left(\frac{213.1}{34.22} \right)$$

$$\Rightarrow \log x = \log 213.1 - \log 34.22, \quad \left(\log \left(\frac{a}{b} \right) = \log a - \log b \right)$$

لاگرتھم جدول کي استعمال ڪرڻ سان

$$\log x = 2.3286 - 1.5343 = 0.7943$$

$$\Rightarrow \log x = 0.7943,$$

ضد لاگرتھم ڪرڻ سان اسان کي ملندو

$$x = \text{antilog}(0.7943)$$

ضد لاگرتھم جي جدول استعمال ڪرڻ سان اسان کي ملندو $x = 6.227$ (گڻ 0=)

۽ $0.7943 =$ مئٽيسا

ته $\frac{213.1}{34.22}$ جو گهربل ملهه مليو 6.227

مثال 03: لاگرتھم جا قاعدا استعمال ڪري $\sqrt{\frac{3.41 \times 37.92}{2.34}}$ جو ملهه لھو.

حل: فرض ڪريو ته $x = \sqrt{\frac{3.41 \times 37.92}{2.34}}$

ٻنهي طرف لاگرتھم وٺڻ سان اسان کي ملندو



$$\begin{aligned}
\log x &= \log \left(\frac{3.41 \times 37.92}{2.34} \right)^{\frac{1}{2}} \\
&= \frac{1}{2} \log \left(\frac{3.41 \times 37.92}{2.34} \right) \\
&= \frac{1}{2} (\log 3.41 + \log 37.92 - \log 2.34) \\
&= \frac{1}{2} (0.5325 + 1.5788 - 0.3692) \\
&= \frac{1}{2} (1.7424) \\
&= 0.8712 \\
x &= \text{antilog } (0.8712) \\
&= 7433 \\
&= 7.433
\end{aligned}$$

4^5 ۾ انگن جو تعداد معلوم ڪريو.

مثال 04

حل: فرض ڪريو ته $n=4^5$

ٻنهي طرف لاڳو ٿم وٺڻ سان اسان کي ملندو

$$\begin{aligned}
\therefore \log n &= \log 4^5, & (\because \log a^n &= n \log a) \\
\Rightarrow \log n &= 5 \log 4, \\
\Rightarrow \log n &= 5 \times 0.6021, & (\log 4 = 0.6021 \text{ ته}) \\
\Rightarrow \log n &= 3.0105,
\end{aligned}$$

جيئن ته انگن جو تعداد = گڻ + 1

تنهنڪري انگن جو تعداد ٿيندو $4^5 = 3+1=4$

مشق 2.6

1. لاگرٿم جي استعمال سان هيٺين جا ملهه لھو.

- (i) 57.86×4.385 (ii) $25.753 \times 0.5341 \times 490.8$ (iii) $\frac{25.753}{0.5341}$
- (iv) $\frac{(790.6 \times 30.32)}{25.753}$ (v) $\frac{99.87}{(8.369) \times (0.785)}$ (vi) $\sqrt[3]{2.709} \times \sqrt[3]{1.239}$
- (vii) $\frac{(26.62)^{\frac{1}{2}} \times (87.19)^3}{\sqrt{69.53}}$ (viii) $\frac{(4308)^3 \times \sqrt{80.06}}{(0.3387)^3}$

2. هيٺين ۾ انگن جو تعداد معلوم ڪريو.

- (i) 4^{12} (ii) 7^{25} (iii) 3^{30} (iv) 5^{20} (v) 9^{30}

مشق ورجايو 2

1. هيٺين بيانن کي ڌيان سان پڙهو ۽ درست بيانن لاءِ T تي گولو پايو ۽ غلط بيانن لاءِ F تي گولو پايو.

- T/F (i) 0.025 کي سائنسي لکڻي ۾ 2.5×10^3 لکي سگهجي ٿو.
- T/F (ii) لاگرٿم البيروني روشناس ڪرايو.
- T/F (iii) ڪنهن عدد جي لاگرٿم ۾ سڄي حصي کي ان جو گڻ چئبو آهي.
- T/F (iv) لاگرٿم عدد جو مٿنيسا غير کاتو به ٿي سگهجي ٿو.
- T/F (v) $\log_a x = y \Leftrightarrow a^y = x$.

2. هيٺيان خال ڀريو.

(i) جنهن لاگريٿم جو بنياد 10 هجي ان کي چئبو _____ .

(ii) $\log 1 = \underline{\hspace{2cm}}$.

(iii) لاگريٿم جي اڻپوري حصي کي سڏبو _____ .

(iv) $\log 512 = \underline{\hspace{2cm}}$.

(v) $\log_a m \times \log_m n = \underline{\hspace{2cm}}$.

(vi) _____ جي صورت آهي $x = \log_a y$.(vii) _____ جي لاگريٿم صورت آهي $a^{10} = y$.

(viii) $\log_b a \times \log_a b = \underline{\hspace{2cm}}$.

(ix) $\log_a \left(\frac{m}{n}\right) = \underline{\hspace{2cm}}$.

(x) $\log(10 \times 10) = \underline{\hspace{2cm}}$.

3. درست جواب تي (✓) جو نشان لڳايو.

(i) جيڪڏهن $\log_{10} x = 4$ ته $x = \underline{\hspace{2cm}}$.

(a) 500 (b) 100 (c) 1000 (d) 10000

(ii) $\log 54.58$ جو ڪٿڻ آهي _____ .

(a) 0 (b) 1 (c) 2 (d) 4

(iii) عام لاگريٿم جو بنياد آهي _____ .


(a) 5 (b) 10 (c) e (d) 100

(iv) $\log xyz = \underline{\hspace{2cm}}$.

(a) $\log x \log y \log z$ (b) $\log x + \log y + \log z$ (c) $\log(xy)^2$ (d) $\log x - \log y - \log z$

(v) 0.00789 جي سائنسي لکڻي آهي: _____ .

(a) 7.89×10^{-3} (b) 7.89×10^3 (c) 0.789×10^{-2} (d) 78.9×10^{-4}



(vi) جيڪڏهن $\log x = 2$ ته $x =$ _____

- (a) 200 (b) 1000 (c) 100 (d) 2/10

(vii) جيڪڏهن $\log_2 8 = x$ ته $x =$ _____

- (a) 64 (b) 3 (c) 3 (d) 2

(viii) قدرتي لاگريٿم جو بنياد آهي _____

- (a) 10 (b) e (c) π (d) 5

(ix) $3^5 = 243$ کي لاگريٿم صورت ۾ لکيو _____

- (a) $\log_3 5 = 243$ (b) $\log_3 243 = 5$
(c) $\log_5 243 = 12$ (d) $\log_5 3 = 243$

خلاصو




◆ جيڪڏهن $a^x = y$ ته y جو لاگريٿم a بنياد تي x کي چئبو آهي ان کي هن ريت لکيو

$$a \neq 1 \text{ ۽ } \log_a y = x, a > 0, y > 0$$

◆ عام لاگريٿم جو بنياد 10 آهي، ان کي برگز لاگريٿم چئبو آهي. گهڻو ڪري $\log_{10} x$ جي بدران $\log x$ لکيو ويندو آهي. قدرتي لاگريٿم جو بنياد e آهي (هڪ غيرناتق عدد جنهن جي قيمت $2.7182818\dots$ آهي ان کي $\log_e x$ جي بدران $\ln x$ لکيو آهي).

$$\log x = y \Leftrightarrow 10^y = x$$



$$\ln x = y \Leftrightarrow e^y = x$$

- ◆ لاگرٿم ۾ سڄي عددي حصي کي گڻ چئبو آهي ۽ اڻپوري حصي کي مئنتيسا چئبو آهي.
- ◆ لاگرٿم عدد جو گڻ 1 کان وڌيڪ هميشه غير کاتو هوندو آهي.
- ◆ لاگرٿم عدد جو گڻ 1 کان گهٽ هميشه کاتو هوندو آهي.
- ◆ لاگرٿم جو کاتو گڻ کي -1, -2, -3 جي بدران $\bar{1}, \bar{2}, \bar{3}$ لکبو آهي.
- ◆ لاگرٿم عدد جن کي انگن جي هڪ جهڙي ترتيب هجي تن جو مئنتيسا پڻ ساڳيو ٿيندو آهي.
- ◆ عدد جيڪو مليل لاگرٿم سان مشابهت رکي ان کي ضد لاگرٿم چئبو آهي.
- ◆ لاگرٿم جا قاعدا:

$$(i) \log_a (mn) = \log_a m + \log_a n$$

$$(ii) \log_a \left(\frac{m}{n} \right) = \log_a m - \log_a n$$

$$(iii) \log_a m^n = n \log_a m$$

$$(iv) \log_a n = \frac{\log_b n}{\log_b a}$$

هي قاعدا هن ريت به لکي سگهجن ٿا: $\log_b a \cdot \log_a n = \log_b n$